

	ÉNONCÉ	RÉPONSE	JURY
21)	Un tiers de 12 œufs	..... œufs	
22)	Deux tiers de 120 g	..... g	
23)	Écris en chiffre : deux-millions-trois-cents		
24)	Il me manque 2 € pour acheter deux BD à 12 € chacune.	J'ai ..... €.	
25)	5 vis pèsent 55 g. <b>Combien pèsent 2 vis ?</b>	..... g	
26)	Complète.	75 cL + ..... cL = 1 L	
27)	Léo et Lisa ont ensemble 10 ans.	Dans 5 ans, il auront ensemble ..... ans.	
28)	Entoure la réponse possible.	La tour Eiffel mesure environ : 3 km    3 m    300 m	
29)	Une pile de 4 livres identiques a une hauteur de 6 cm.	Une pile de 6 de ces livres a une hauteur de ..... cm.	
30)	Léo a 30 billes et Zoé en a 5.	Zoé a ... fois moins de billes que Léo.	

NOM: .....

PRÉNOM: .....

SCORE: /30

CLASSE: .....

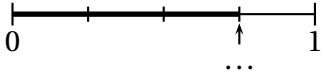
✓ *Durée: 9 minutes*

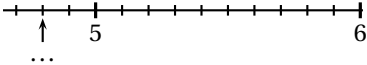
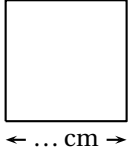
✓ *L'épreuve comporte 30 questions.*

✓ *L'usage de la calculatrice et du brouillon sont interdits. Il n'est pas permis d'écrire des calculs intermédiaires.*

### SUJET CM2 - JUIN 2018



	ÉNONCÉ	RÉPONSE	JURY
1)	$58 + 9$		
2)	$300 - 101$		
3)	$8 + 8 + 8 + 8$		
4)	$9 \times 3$		
5)	Complète.	$4 \times \dots = 32$	
6)	Enlève une demi-heure à 1 h 10 min.		
7)	Le quart de 32		
8)	7 vis pèsent 15 g.	$\dots$ vis pèsent 30 g.	
9)	Complète.		
10)	$45 \div 3$		
11)	Écris autrement $\frac{204}{100}$ .		
12)	Complète.	$3,5 = \frac{\dots}{\dots}$	

	ÉNONCÉ	RÉPONSE	JURY
13)	Complète.		
14)	Avec 100 roses, un fleuriste fait 20 bouquets identiques.	Il y a $\dots$ roses dans chaque bouquet.	
15)	$1 \div 4$		
16)	Le <b>périmètre</b> de ce carré est de 10 cm. <b>Complète.</b>		
17)	Encadre 99,4 par deux entiers qui se suivent.	$\dots < 99,4 < \dots$	
18)	Quel est le nombre 10 fois plus grand que 3 dixièmes ?		
19)	$4 \times 1,5$		
20)	Entoure le plus grand nombre.	$\frac{2}{3}$ 2,1	