


	ÉNONCÉ	RÉPONSE	JURY
23)	Combien faut-il de pièces de 10 centimes pour avoir 2 € ?	Il faut ..... pièces de 10 centimes.	
24)	Trace un segment de longueur $2 + \frac{3}{4}$ unités.	1 unité 	
25)	$7000 + 50$		
26)	Entoure la réponse possible.	La taille d'une fourmi est : 3m    3dm    3mm	
27)	Le double de 5 dixièmes est :	... unité(s)	
28)	Complète.	... $\times$ ... = 25	
29)	4 cubes identiques empilés ont une hauteur de 20 cm.	6 cubes empilés ont une hauteur de ... cm.	
30)	Un bus met 2 heures pour emmener 5 passagers.	Ce même bus mettra ... heures pour emmener 10 passagers.	

NOM: .....

PRÉNOM: .....

SCORE: /30


CLASSE: .....

✓ *Durée: 9 minutes*

✓ *L'épreuve comporte 30 questions.*

✓ *L'usage de la calculatrice et du brouillon sont interdits. Il n'est pas permis d'écrire des calculs intermédiaires.*

## SUJET CM1 MARS 2022



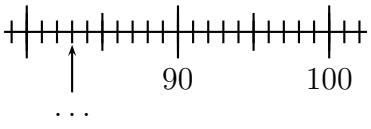
# 2022

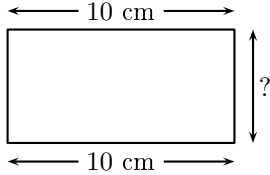
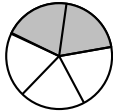


  
**MINISTÈRE  
DE L'ÉDUCATION  
NATIONALE,  
DE LA JEUNESSE  
ET DES SPORTS**  
Liberté  
Égalité  
Fraternité

ACADÉMIE DE NORMANDIE    ACADÉMIE DE VERSAILLES    ACADÉMIE DE REIMS    ACADÉMIE DE STRASBOURG  
 ACADÉMIE DE RENNES    ACADÉMIE DE NANTES    ACADÉMIE DE DIJON    ACADÉMIE DE NANCY-METZ  
 ACADÉMIE DE TOULOUSE    ACADÉMIE D'ORLÉANS-TOURS    ACADÉMIE DE LYON

## La course aux nombres

	ÉNONCÉ	RÉPONSE	JURY
1)	$5 \times 7$		
2)	La moitié de 32		
3)	Complète.	$34 + \dots = 100$	
4)	6 cahiers coûtent 5€.	18 cahiers coûtent ... €	
5)	Complète.	1 h 10 min = ... min	
6)	Complète.		
7)	$27 + 19$		
8)	24 élèves se mettent par groupe de 3.	Il y a ... groupes.	
9)	Le quart de 100		
10)	Complète.	$6 + 3 = \dots + 2$	
11)	$15 \times 10$		
12)	Un film commence à 17 h 50 et se termine à 19 h 00	Le film dure ... h ... min.	

	ÉNONCÉ	RÉPONSE	JURY
13)	Complète.	$1 = \dots$ quarts	
14)	Ajoute 20 min à 10 h 30 min.	$\dots$ h $\dots$ min	
15)	Ajoute <b>1 dizaine</b> à 581.		
16)	Lou a 40 billes. Yann a 5 billes de plus que Lou.	Yann a $\dots$ billes.	
17)	Le périmètre de ce rectangle est 30 cm. 	$? = \dots$ cm	
18)	Complète.	$1,250 \text{ kg} = \dots$ g	
19)	Écris en chiffre : <b>Quatre-mille-vingt</b>		
20)	Quelle fraction de la surface du disque est grisée ? 		
21)	Complète.	10 jours = $\dots$ h	
22)	Complète.	5 jours = $\dots$ h	