


	ÉNONCÉ	RÉPONSE	JURY
23)	Combien faut-il de pièces de 10 centimes pour avoir 2 € ?	Il faut pièces de 10 centimes.	
24)	Trace un segment de longueur $2 + \frac{3}{4}$ unités.	1 unité 	
25)	$7000 + 50$		
26)	Entoure la réponse possible.	La taille d'une fourmi est : 3m 3dm 3mm	
27)	Le double de 5 dixièmes est :	... unité(s)	
28)	Complète.	... \times ... = 25	
29)	4 cubes identiques empilés ont une hauteur de 20 cm.	6 cubes empilés ont une hauteur de ... cm.	
30)	Un bus met 2 heures pour emmener 5 passagers.	Ce même bus mettra ... heures pour emmener 10 passagers.	

NOM:

PRÉNOM:

SCORE: /30


CLASSE:

✓ *Durée: 9 minutes*

✓ *L'épreuve comporte 30 questions.*

✓ *L'usage de la calculatrice et du brouillon sont interdits. Il n'est pas permis d'écrire des calculs intermédiaires.*

SUJET 6^e, 5^e SEGPA MARS 2022



La course aux nombres

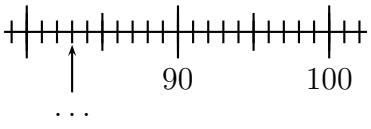

 MINISTÈRE
 DE L'ÉDUCATION
 NATIONALE,
 DE LA JEUNESSE
 ET DES SPORTS
Liberté
 Égalité
 Fraternité

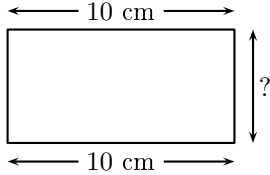
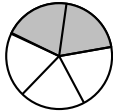
ACADÉMIE DE NORMANDIE ACADÉMIE DE VERSAILLES ACADÉMIE DE REIMS ACADÉMIE DE STRASBOURG
 ACADÉMIE DE RENNES ACADÉMIE DE NANTES ACADÉMIE DE DIJON ACADÉMIE DE NANCY-METZ
 ACADÉMIE DE TOULOUSE ACADÉMIE D'ORLÉANS-TOURS ACADÉMIE DE LYON



2022



	ÉNONCÉ	RÉPONSE	JURY
1)	5×7		
2)	La moitié de 32		
3)	Complète.	$34 + \dots = 100$	
4)	6 cahiers coûtent 5€.	18 cahiers coûtent ... €	
5)	Complète.	1 h 10 min = ... min	
6)	Complète.		
7)	$27 + 19$		
8)	24 élèves se mettent par groupe de 3.	Il y a ... groupes.	
9)	Le quart de 100		
10)	Complète.	$6 + 3 = \dots + 2$	
11)	15×10		
12)	Un film commence à 17 h 50 et se termine à 19 h 00	Le film dure ... h ... min.	

	ÉNONCÉ	RÉPONSE	JURY
13)	Complète.	1 = quarts	
14)	Ajoute 20 min à 10 h 30 min. h min	
15)	Ajoute 1 dizaine à 581.		
16)	Lou a 40 billes. Yann a 5 billes de plus que Lou.	Yann a billes.	
17)	Le périmètre de ce rectangle est 30 cm. 	? = cm	
18)	Complète.	1,250 kg = g	
19)	Écris en chiffre : Quatre-mille-vingt		
20)	Quelle fraction de la surface du disque est grisée ? 		
21)	Complète.	10 jours = h	
22)	Complète.	5 jours = h	