

NOM :


PRÉNOM :

CLASSE :


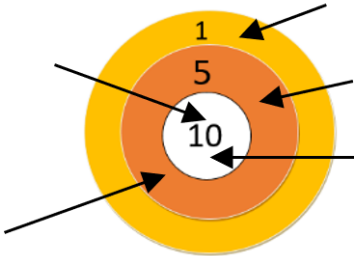
SCORE : / 20



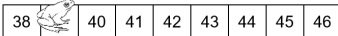
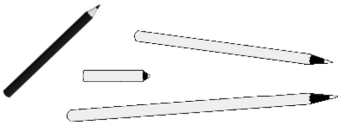
- ✓ *Durée : 10 minutes*
- ✓ *L'épreuve comporte 20 questions.*
- ✓ *L'usage de la calculatrice et du brouillon sont interdits.
Il n'est pas permis d'écrire des calculs intermédiaires.*

SUJET CP JUIN 2025



La course aux nombres

	Énoncé	Réponse	Jury					
1)	Calcule.	$30 - 7 = \dots\dots$						
2)	 <p>Il y a 10 œufs dans chaque boîte.</p>	Il y aœufs en tout.						
3)	Quel nombre a 7 comme chiffre des dizaines et 0 comme chiffre des unités ?						
4)	Quel est le double de 10 ?						
5)	Calcule.	$6 + 45 = \dots\dots$						
6)	Complète.	<table border="1" style="display: inline-table;"> <tr> <td>60</td> <td>55</td> <td>50</td> <td>45</td> <td>...</td> </tr> </table>	60	55	50	45	...	
60	55	50	45	...				
7)	Marco a enlevé deux dizaines à 35. Entoure le résultat.	55 15 33						
8)	Complète avec + ou -	$50 \dots\dots 48 = 2$						
9)	Entoure le plus grand des deux nombres.	$30 + 1$ $7 + 29$						
10)		La tireur à l'arc a marqué points						

	Énoncé	Réponse	Jury					
11)	Ecris en chiffres le résultat de 4 dizaines + 3 dizaines.						
12)	Entoure le nombre le plus proche de 62.	52 59 67						
13)	La moitié de 40 est :						
14)	Entoure les deux pièces qui manquent.							
15)	Quel nombre j'obtiens si j'ajoute trois dizaines à 53 ?						
16)	 <p>Les dés montrent de combien de cases la grenouille peut avancer. Entoure la case où elle arrive.</p>							
17)	Zoé avait 17 billes. Elle en a gagné 5 puis elle en a perdu 7. Combien lui reste-t-il de billes ?	Il reste billes à Zoé.						
18)	Combien faut-il de pièces de 2 € pour avoir 16 € ?	Il faut pièces de 2 €						
19)	Entoure le crayon qui est deux fois plus grand que le crayon noir.							
20)	Ecris le nombre qui va dans la case grise.	<table border="1" style="display: inline-table;"> <tr> <td>12</td> <td>15</td> <td>18</td> <td style="background-color: gray;"></td> <td>30</td> </tr> </table>	12	15	18		30	
12	15	18		30				