

NOM : .....


PRÉNOM : .....

CLASSE : .....


SCORE : / 20

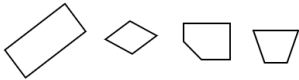



- ✓ *Durée : 10 minutes*
- ✓ *L'épreuve comporte 20 questions.*
- ✓ *L'usage de la calculatrice et du brouillon sont interdits.  
Il n'est pas permis d'écrire des calculs intermédiaires.*

## SUJET CP MARS 2025



# La course aux nombres

	Énoncé	Réponse	Jury					
1)	Calcule.	$16 - 7 = \dots$						
2)	Écris le plus petit nombre qui vient après 30 et qui finit par 8.	.....						
3)	Complète.	<table border="1" style="display: inline-table; border-collapse: collapse;"> <tr> <td style="width: 20px; text-align: center;">20</td> <td style="width: 20px; text-align: center;">25</td> <td style="width: 20px; text-align: center;">30</td> <td style="width: 20px; text-align: center;">35</td> <td style="width: 20px; text-align: center;">.....</td> </tr> </table>	20	25	30	35	.....	
20	25	30	35	.....				
4)	<p>Il y a dix chevaux. Certains sont dans le pré, d'autres dans l'écurie. Combien sont dans l'écurie ?</p> 	... chevaux sont dans l'écurie.						
5)	Complète	$27 + \dots = 37$						
6)	Le double de 8 est	.....						
7)	Il y a 3 chiens. Combien y a-t-il de pattes en tout ?	.....						
8)	Que faut-il ajouter à 7 pour obtenir 14 ?	.....						
9)	Tu as 3 billets de 5 euros. Entoure la somme que tu as dans ton porte-monnaie.	8€    20€    15€						
10)	Marco avait 19 billes au début de la récréation. Il en a gagné 5. Combien a-t-il de billes maintenant ?	Marco a ... billes						
11)	Calcule.	$8 + 9 = \dots$						
12)	Entoure le nombre le plus proche de 24.	30    20    27						

	Énoncé	Réponse	Jury						
13)	La moitié de 12 est	.....							
14)	Entoure le rectangle.								
15)	Ecris le nombre qui va dans la case grise.	<table border="1" style="display: inline-table; border-collapse: collapse;"> <tr> <td style="width: 20px; text-align: center;">22</td> <td style="width: 20px; text-align: center;">24</td> <td style="width: 20px;"></td> <td style="width: 20px;"></td> <td style="width: 20px; background-color: #cccccc;"></td> <td style="width: 20px; text-align: center;">32</td> </tr> </table>	22	24				32	
22	24				32				
16)	Que faut-il empiler pour construire la plus grande tour : 5 cubes de hauteur 3 cm ou bien 4 cubes de hauteur 4 cm ?	Il faut empiler ... cubes de hauteur ... cm.							
17)	Sophie joue aux quilles : 	Sophie a gagné ... points							
18)	Écris le nombre qui a 8 unités et 2 dizaines	.....							
19)	Entoure la pièce qui manque pour compléter le carré 								
20)	Entoure le plus grand des deux nombres :	$10 + 5 + 10$ $8 + 10 + 5$							