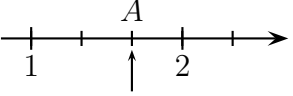


	ÉNONCÉ	RÉPONSE	JURY
23)	Je dois payer 4,54 €. Je paie avec un billet de 5 €.	On me rend ..... €.	
24)	Complète la suite de nombres :	6,02 - 6,01 - 6 - ...	
25)	Entoure la réponse du calcul $54\,000 \div 9$	6 000    600    60	
26)	Complète.	 ...	
27)	Complète.	Je roule à 40 km/h. En 15 minutes, je parcours ..... km.	
28)	Écris le nombre 100 fois plus grand que 7 dizaines.		
29)	Complète.	320 cm = ..... m	
30)	Complète.	Le reste de la division de 27 par 6 est ...	

NOM : .....

PRÉNOM : .....

SCORE :    /30


CLASSE : .....

✓ *Durée : 9 minutes*

✓ *L'épreuve comporte 30 questions.*

✓ *L'usage de la calculatrice et du brouillon sont interdits. Il n'est pas permis d'écrire des calculs intermédiaires.*

## SUJET CM2 - JUIN 2025



## La course aux nombres

  
**MINISTÈRE  
DE L'ÉDUCATION  
NATIONALE,  
DE LA JEUNESSE  
ET DES SPORTS**  
Liberté  
Égalité  
Fraternité

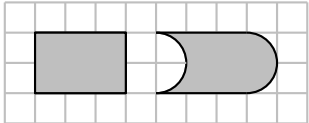
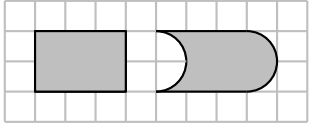
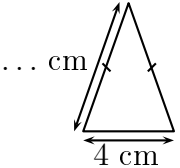
ACADÉMIE DE NORMANDIE    ACADÉMIE DE VERSAILLES    ACADÉMIE DE REIMS    ACADÉMIE DE STRASBOURG

ACADÉMIE DE RENNES    ACADÉMIE DE NANTES    ACADÉMIE DE DIJON    ACADÉMIE DE NANCY-METZ

ACADÉMIE DE TOULOUSE    ACADÉMIE D'ORLÉANS-TOURS    ACADÉMIE DE LYON



	ÉNONCÉ	RÉPONSE	JURY
1)	$26 + 7$		
2)	Complète.	$\dots \times 9 = 36$	
3)	Combien de dixièmes dans 3 unités ?	$\dots$ dixièmes	
4)	Écris en chiffres : cinquante-six-mille-quatre		
5)	$305 - 11$		
6)	Il est 15 h50. Dans un quart d'heure, il sera :	$\dots$ h $\dots$ min	
7)	Le triple de 12		
8)	Si 8 morceaux de sucre pèsent 60 g, alors	4 morceaux de sucre pèsent $\dots$ g	
9)	Complète.	$1 + \frac{15}{10} = \frac{\dots}{10}$	
10)	Entoure la bonne réponse.	Une orange pèse : 2 g      200 g      2 kg	
11)	Complète.	270 dixièmes = $\dots$ unités	
12)	$0,4 + 0,4 + 0,4$		
13)	Paul a 12 cartes. Il en a trois fois plus que Lilou.	Lilou a $\dots$ cartes.	

	ÉNONCÉ	RÉPONSE	JURY
14)	$102 - 25$		
15)	<b>Vrai - Faux</b> Ces figures ont le même périmètre.  Entoure la bonne réponse.	VRAI FAUX	
16)	<b>Vrai - Faux</b> Ces figures ont la même aire.  Entoure la bonne réponse.	VRAI FAUX	
17)	1 kg de bananes coûte 2,20 €.	1,5 kg de bananes coûte $\dots$ €.	
18)	Le périmètre de ce triangle isocèle est 16 cm. Complète.		
19)	Entoure le nombre « quatre centièmes ».	0,04      400 0,400      4,100	
20)	Le tiers de 360 g est	$\dots$ g	
21)	$0,25 \times 4$		
22)	$0,25 \times 7 \times 4$		