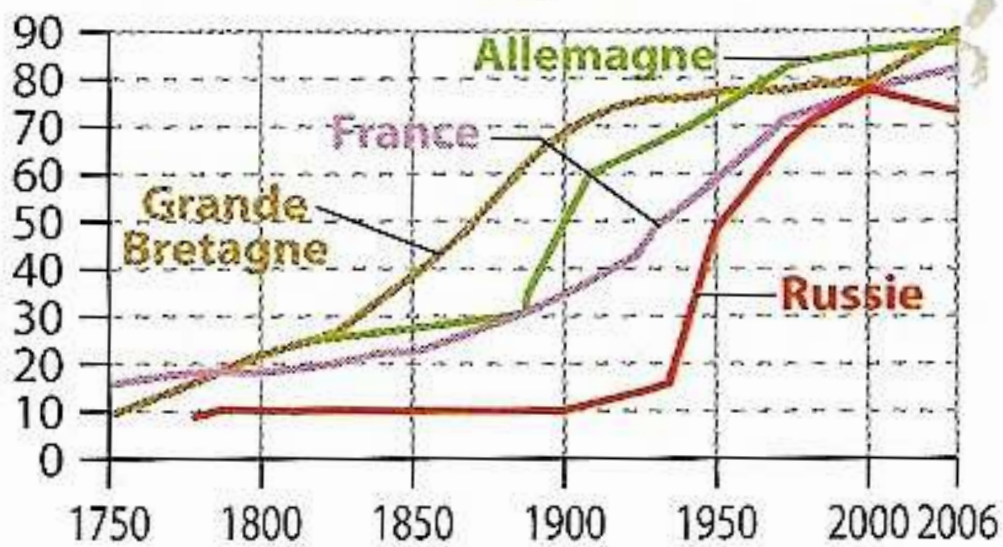


VERSTÄDTERUNG IN FRANKREICH

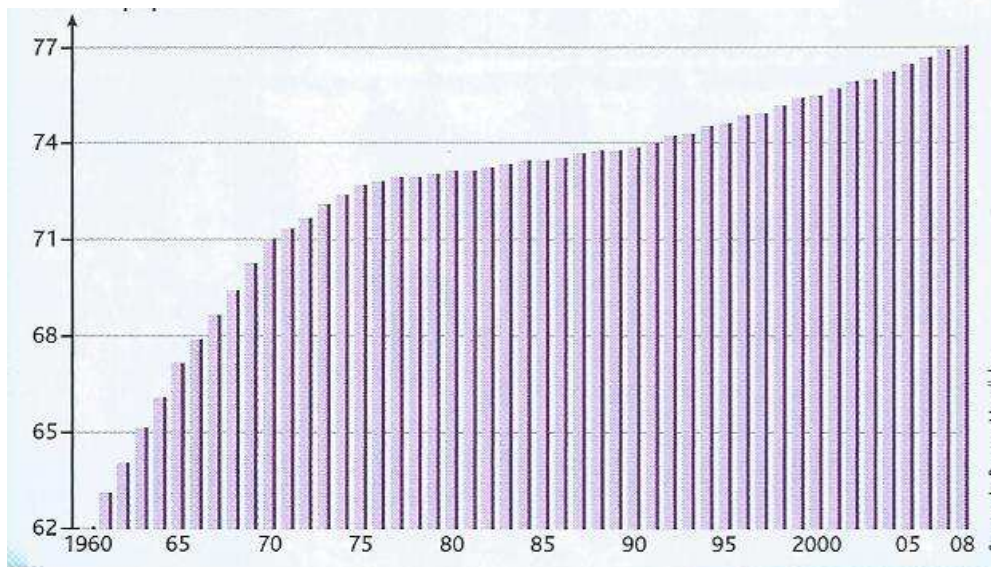
Verstädterungsquote (Übung)

M1 : Verstädterungsquote (1750-2006)

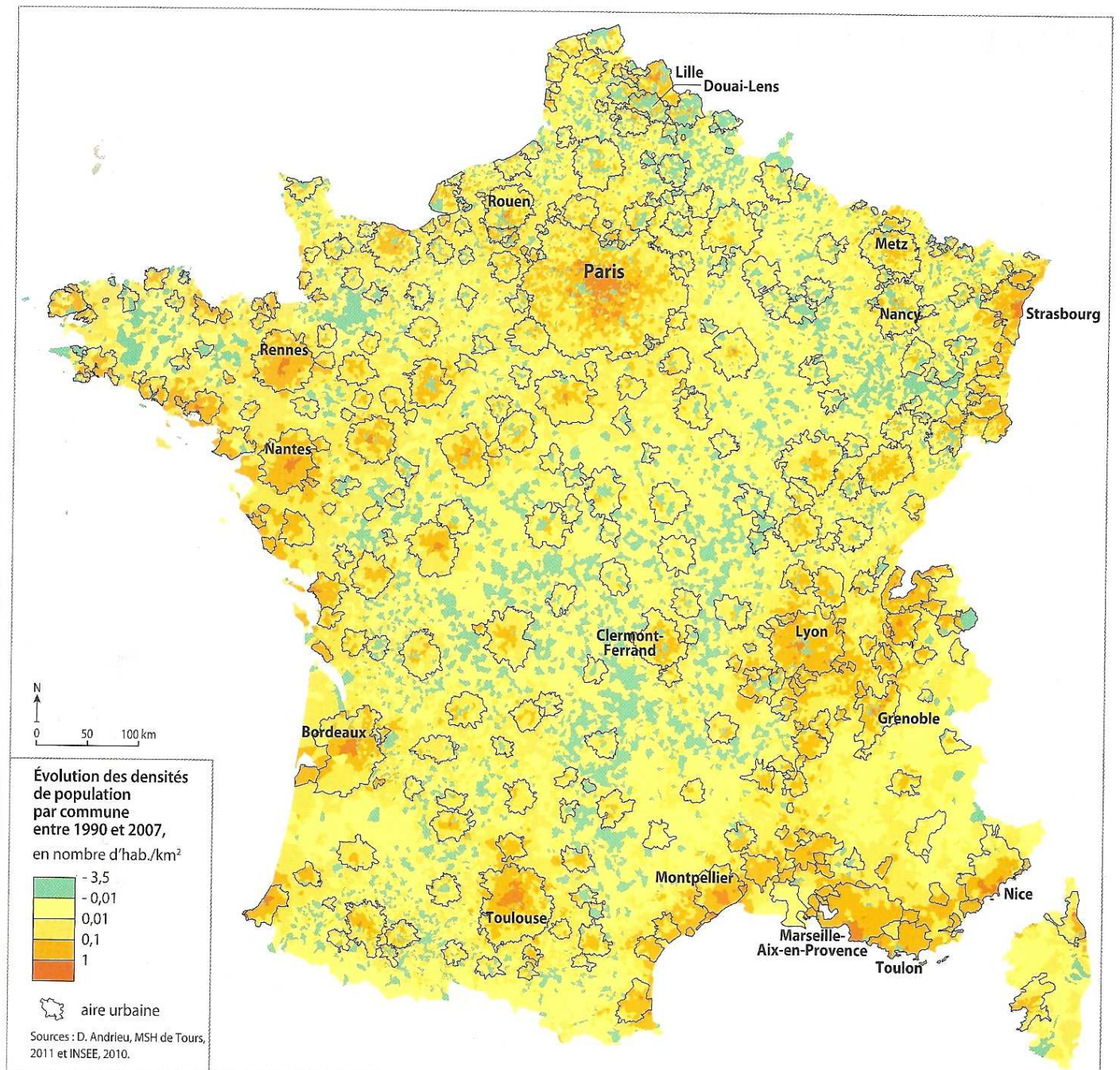


Source : R. Le Goix, *Villes et mondialisation : le défi majeur du XXI^e siècle*, 2005.

M2 : Verstädterungsquote 2011 in %



- 1) Wie viel Franzosen lebten 1800 in einer Stadt? **(M1, M2)**
- 2) Dieselbe Frage für 1850, 1900, 1960, 2008.
- 3) Seit wann stieg die Verstädterungsquote in Frankreich beträchtlich? **(M1)**
- 4) Wie ist das zu erklären? **(Eigene Kenntnisse)**
- 5) Warum stieg die Verstädterungsquote nach dem Zweiten Weltkrieg weiter? **(M1, M2, eigene Kenntnisse)**



M3 : Wachstum der Bevölkerungsdichten nach Gemeinden zwischen 1990 und 2007
(in Einwohner per km²)

- 6) In Welchen Räumen sind die Bevölkerungsdichten zwischen 1990 und 2007 am meisten gestiegen? (M3)
- 7) In Welchen Räumen sind die Bevölkerungsdichten zwischen 1990 und 2007 am meisten gesunken? (M3)